

Caderno do estudante de
AVALIAÇÕES FORMATIVAS

MATEMÁTICA

1º ano do Ensino Fundamental



NOME DO ESTUDANTE:

TURMA:

DATA DE NASCIMENTO:


--	--	--	--	--	--	--	--

CONTANDO COM TAMPINHAS***FICHA 1 - PONTUAÇÃO COM DADOS****PARTE 1 TAMPINHAS E DADO****GRUPO:**

ATIVIDADE	REGISTRAR O NÚMERO
ESTIMATIVA DO NÚMERO DE TAMPINHAS QUE ESTÃO NO SAQUINHO	

RODADAS	NÚMERO QUE SAIU NA FACE DO DADO
1ª RODADA	
2ª RODADA	
3ª RODADA	

TOTAL DE PONTOS QUE PONTOS FEITO PELO GRUPO NAS RODADAS

PARTE 2 REGISTRANDO E OBSERVANDO A PONTUAÇÃO

GRUPOS	RODADAS			TOTAL
	1ª RODADA	2ª RODADA	3ª RODADA	

PARTE 3 COMPARAÇÃO

A) QUANTAS TAMPINHAS SOBRARAM NO SAQUINHO?

B) QUANTAS TAMPINHAS ESTAVAM NO SAQUINHO ANTES DO JOGO?

C) A QUANTIDADE DE TAMPINHAS QUE ESTÁ NO SAQUINHO É MAIOR QUE O NÚMERO DE TAMPINHAS QUE VOCÊS CONSEGUIRAM NO JOGO? RESPONDA MARCANDO X:

SIM

NÃO

SE VOCÊS RESPONDERAM SIM, QUANTAS TAMPINHAS FALTAM PARA ALCANÇAR A MESMA QUANTIDADE QUE FICOU NO SAQUINHO? REGISTREM COMO PENSARAM:

SE VOCÊS RESPONDERAM NÃO, QUANTAS TAMPINHAS TEM A MAIS QUE A QUANTIDADE QUE FICOU NO SAQUINHO? REGISTREM COMO PENSARAM:



D) VOCÊS ACERTARAM O NÚMERO DE TAMPINHAS QUE TINHA NO SAQUINHO?

SIM

NÃO

SE NÃO, POR QUANTAS TAMPINHAS VOCÊS ERRARAM?

.....



FICHA 2 - RESOLVENDO PROBLEMAS

A PARTIR DOS DADOS DO QUADRO, RESOLVA OS PROBLEMAS A SEGUIR:



A) QUAL O TOTAL DE PONTOS QUE FEITOS POR TODOS OS GRUPOS DESTA TURMA?
RESOLVA NO ESPAÇO A SEGUIR:

B) SE O GRUPO QUE FEZ MENOS PONTOS TIVESSE FEITO 8 PONTOS A MAIS, QUAL
SERIA A NOVA PONTUAÇÃO DESSE GRUPO? RESOLVA NO ESPAÇO A SEGUIR:

C) SE O GRUPO QUE FEZ MENOS PONTOS TIVESSE FEITO 5 PONTOS A MENOS, QUAL
SERIA A NOVA PONTUAÇÃO DESSE GRUPO? RESOLVA NO ESPAÇO A SEGUIR:





D) QUAL FOI O GRUPO QUE FEZ MENOS PONTOS?

E) QUAL FOI O GRUPO QUE FEZ MAIS PONTOS?

F) COMPARE O TOTAL DE PONTOS DO GRUPO QUE TEVE MAIOR PONTUAÇÃO COM O QUE TEVE A MENOR PONTUAÇÃO. QUANTOS PONTOS O GRUPO QUE OBTEVE MAIOR PONTUAÇÃO FEZ A MAIS?



FICHA 3 - LEITURA, IDENTIFICAÇÃO E COMPARAÇÃO DE DADOS EXPOSTOS
EM UM QUADRO

GRUPOS	RODADAS	
	1ª RODADA	2ª RODADA
GRUPO 1	12	17
GRUPO 2	11	24
GRUPO 3	21	16
GRUPO 4	14	20
GRUPO 5	13	15

Agora é com você! responda:

A) MARQUE X NO GRUPO QUE TEVE O MAIOR NÚMERO DE PONTOS NA 1ª RODADA?

B) CIRCULE O GRUPO QUE FEZ O MAIOR NÚMERO DE PONTOS NA 2ª RODADA?

C) QUANTOS PONTOS FEZ O GRUPO 1? MARQUE X NA RESPOSTA CERTA.

24

28

29

D) QUE GRUPO FEZ 20 PONTOS NA 2ª RODADA? MARQUE X NA RESPOSTA CERTA.

GRUPO 3

GRUPO 4

GRUPO 5

E) QUAL FOI O GRUPO QUE FEZ MAIS PONTOS CONSIDERANDO AS DUAS RODADAS?
MARQUE X NA RESPOSTA CERTA.

GRUPO 1 GRUPO 2 GRUPO 3 GRUPO 4 GRUPO 5

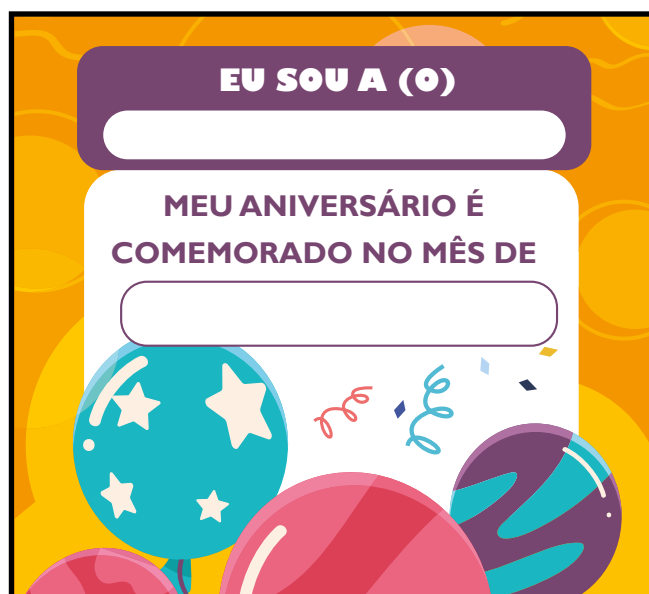
F) ESCREVA, EM ORDEM CRESCENTE OS PONTOS DA SEGUNDA RODADA.

G) ESCREVA EM ORDEM DECRESCENTE OS PONTOS DA PRIMEIRA RODADA.



ANIVERSARIANTES DA TURMA DO 1 ANO*

PARTE 1



PARTE 2

1 FAÇA UM X NA QUANTIDADE DE MESES QUE COMPÕEM UM ANO.

 1 6 9 12

2 VOCÊ JÁ OBSERVOU QUE OS MESES DO ANO SE SUCEDEM EM UMA ORDEM. VAMOS NUMERÁ-LOS? PARA ISSO, COMPLETE O QUADRO A SEGUIR E REALIZE O QUE SE PEDE:

MESES	NÚMERO
JANEIRO	
FEVEREIRO	
MARÇO	3
ABRIL	
MAIO	
JUNHO	
JULHO	7
AGOSTO	
SETEMBRO	
OUTUBRO	10
NOVEMBRO	
DEZEMBRO	

A) FAÇA UM X NO PRIMEIRO MÊS DO ANO.

B) CIRCULE DE VERMELHO O 6º MÊS DO ANO.

C) PINTE DE VERDE O MÊS QUE VEM ANTES DE SETEMBRO.

D) CIRCULE DE AZUL O MÊS QUE VEM DEPOIS DE MARÇO.

E) PINTE DE LARANJA O MÊS QUE ESTÁ ENTRE JUNHO E AGOSTO.

F) MARIANA DISSE QUE FAZ ANIVERSÁRIO NO MÊS 11. CIRCULE DE MARROM ESSE MÊS.

G) RAFAEL CONVIDOU AMIGOS PARA SUA FESTA DE ANIVERSÁRIO QUE ACONTECERÁ NO PRIMEIRO FINAL DE SEMANA DO MÊS 5. PINTE DE AMARELO ESSE MÊS.

